



SECRETARIA MUNICIPAL DE EDUCAÇÃO
UNIDADE ESCOLAR PREFEITO CÉZAR AUGUSTO
LEAL PINHEIRO
ENSINO FUNDAMENTAL – EDUCAÇÃO DE JOVENS E ADULTOS – 2022



Componente Curricular: MATEMÁTICA

Série/ano: 2ª Etapa

Turma: Única

Turno: Noite

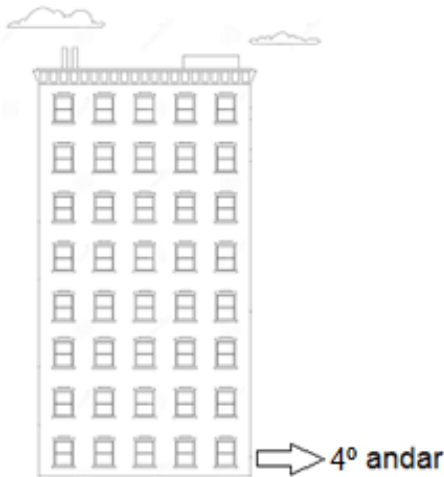
Professor: JOSÉ LUIZ MARTINS

Observação

Data: 23/abril/2022.

Estudante:

Sábado letivo – Atividade



1 – Se você mora em um apartamento no quarto andar e sua mãe mora seis andares acima, em qual andar ela mora? Escreva a resposta com algarismos e por extenso.

2 – Pensando nos meses do ano, diga qual a posição ordinal dos meses fevereiro, junho, outubro e novembro?

Fevereiro

Junho

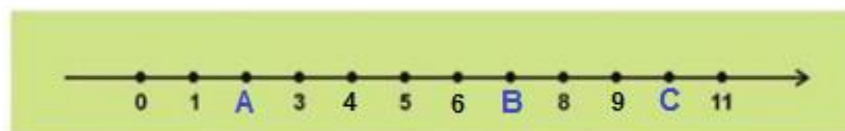
outubro

Novembro

3 – Represente os ordinais com algarismos:

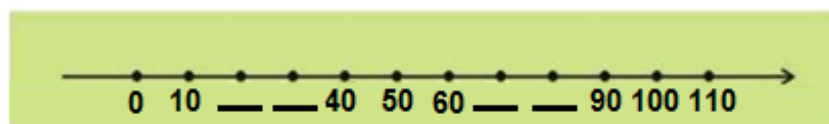
- a) octogésimo primeiro: _____
b) nonagésimo sexto: _____
c) tricentésimo segundo: _____
d) sexcentésimo quinto: _____
e) trigésimo sexto: _____
f) sexagésimo sétimo: _____
g) trigésimo oitavo: _____

4 – Observe a reta numerada dos Números Naturais e responda o que se pede:



- a) O ponto A na reta acima ocupa qual valor? _____
b) O ponto B na reta acima ocupa qual valor? _____
a) E qual valor do ponto C? _____

5 – Quais números completam corretamente a reta abaixo?



--

--

--

--

6 – As unidades mais utilizadas para o trabalho com comprimento são:

- a) () O metro, decâmetro e o litro.
- b) () O centímetro, o metro e o quilômetro.
- c) () O centímetro, o metro e o quilograma.

7 – Transformando 300 cm em metro (m), temos:

- a) () 30 metros.
- b) () 3 metros.
- c) () 3000 metros.

8 – André tem 123 palitos de picolé e Felipe 456 do mesmo tipo de palito. Quantos palitos tem os dois juntos?

Área de cálculos:

C	D	U

9 – Antônia comprou 786 tijolos e já usou 564 destes tijolos. Quantos tijolos ainda faltam para serem usados por Antônia?

Área de cálculos:

C	D	U

10 – Socorro tinha 48 ovelhas e comprou 23 em uma feira. Porém, 12 das suas ovelhas fugiram. Quantas ovelhas Socorro ficou?

Área de cálculos:

D	U

D	U